



Sanskriti KMV School

Summer Vacation Homework

Class 4

Dear Parents,

POINTS TO BE NOTED

“The child who leaves before summer vacation and the child who returns after it are often not the same academically.”

Summer vacations are important for rest and happiness, but long breaks from studies affect children’s learning habits, revision, writing practice, and discipline. Teachers often have to **restart many concepts** after vacations.

Holiday homework is not given to burden children. It is given to keep them **connected with learning** in a light and meaningful way. Even a little daily revision can make a big difference.

Your support during vacations helps children return more **confident, prepared, and ready to learn.**

Let’s make this summer fun-filled and learning-filled! ♥

REST

LEARN

GROW

ENGLISH

Theme: "Fun with English"

1. Reading Activity My Reading Corner

Read the story A Friendship to Remember from Studio book -1 pg 81.

Write:

* Name of the story _____

* Name of the author _____

* Favourite character _____

* 5 new words with meanings _____

* Moral of the story _____

Draw your favourite scene on A4 sheet.

2. Picture Composition

Paste or draw one picture and write 6–8 sentences about it.

Suggested topics:

* Park Scene, Birthday Party, Rainy Day, Picnic Scene. Vocabulary Activity

3. Creative Writing :- My Summer Holidays

Write 8–10 sentences in your note book "How I Spent My Summer Holidays".

You may include:

* places visited, games played, favourite food, fun activities, time with family. Draw a related picture on A4 sheet.

4. Speaking Activity :- Speak with Confidence

Practice speaking for 1 minute daily on:

* Myself

* My Best Friend



* My School

* My Favourite Fruit

* My Pet or Favourite Animal

5. Fun Grammar Worksheet

A. Underline the Nouns

1. The dog barked loudly.
2. Riya went to school.
3. Her friend gave her a birthday gift.
4. The children are playing in the park.
5. The doctor checked the patient carefully.

B. Circle the Verbs

1. Birds fly in the sky.
2. The baby cried loudly.
3. The teacher explained the lesson clearly.
4. My brother plays cricket every evening.
5. We visited the museum during our trip.

C. Fill in the Adjectives

1. The _____ flower bloomed.
2. I ate a _____ mango.
3. The _____ puppy was playing in the garden.
4. She wore a _____ dress to the party.
5. We ate _____ mangoes in summer.

D. Replace with Pronouns

1. Ravi is playing. → _____ is playing.
2. Meena and Tina are friends. → _____ are friends.

6. Family Time Activity

Make a video while talking to your grandparents or parents about

“A Funny Childhood Memory”.

7. Bonus Creative Task :- English Around Me

Collect 20 English words from:

*** wrappers, newspapers, shops, vehicles, or advertisements.**

Write them neatly in your notebook.

Note :- Revise lesson 1 and 2.

ALL Activity:-

State:- Punjab and Odisha

Festival Greeting Card

Make two greeting cards:

*** Lohri**

*** Rath Yatra**

Write a short English greeting message inside.

MATHS

. General Instructions:

- Use loose sheets.
- Draw neat diagrams using ruler and colours.
- Write all activities in your own handwriting.
- Make the assignment creative and activity-based.
- Attempt all questions.

1. Fill in the blanks:

a) Longest chord of circle is called = _____

b) A circle has _____ lines of symmetry.

c) Place value of 6 in 46,238 = _____

d) Face value of 9 in 92,154 = _____

e) Place of digit 4 in number 60,465 _____

f) 10 tens = _____

g) 10 hundreds = _____

h) 10 thousands = _____

i) 5 thousands = _____ hundreds

j) 7 ten thousands = _____

2. *Write in expanded* *form* :

a) 75,368 = _____

b) 95,425 = _____

3. Write in words:

a) 32,456 = _____

b) 58,901 = _____

**4. Arrange in:*

a). Ascending order*

45,230, 32,145, 54,321, 29,456

b). Descending order:

14,560, 67,800, 24,500, 38,400

5. Solve:

a) $23,450 + 15,630 =$ _____

b) $67,820 - 25,460 =$ _____

c) $34,280 + 21,650 =$ _____

6. Word Problems:

a) A school has 25,400 students. 12,350 new students joined. Find total students.

b) A shopkeeper had 5,460 candy boxes. He had sold 2300 boxes in the market.
How many candy boxes are left with him ?

c) A library had 12,560 books. It bought 3,425 more books.

How many books are there now?

7. Mental Maths:

a) $32,000 + 10,000 =$ _____

b) $18,000 - 8,000 =$ _____

8. Using a compass and a scale ,draw circles of different radii.(radius) In each circle, draw a chord and diameter also.

9. Draw lines of symmetry for:

Square

Rectangle

Circle

Star

10. Draw and circle the symmetrical shapes:

Butterfly, Mug, Leaf, Bottle, Flower

11. Complete the patterns

i. 2,000 ; 3,000 ; 4,000 ; _____ ; _____

ii. 45,000 ; 44,000 ; 43,000 ; _____ ; _____

iii. 3400 ; 3600 ; 3800, _____ ; _____

12. Write the place , place value of the underlined digit

i. 34,582 \rightarrow 5 = _____

ii. 67,914 \rightarrow 7 = _____

iii. 82,356 \rightarrow 2 = _____

13. Round off these numbers to the nearest:

Tens, hundreds, thousands and ten thousands.

i. 34,749

ii. 42,567

iii. 78,924

14. HOTS Corner

A number rounded to nearest hundred becomes 5,300. Write 3 possible numbers.

15. Think and answer:

Which number becomes 40,000 when rounded to nearest ten thousand?

16. Hot Question

A number when added to 14,275 gives 50,000. Find the number.

17. True or False

i. 5,749 rounded to nearest thousand is 6,000. (____)

ii. 10 hundreds = 1000. (____)

iii. 89,451 rounded to nearest ten thousand is 90,000. (____)

18. HOTS CHALLENGE SECTION

Use digits 2, 4, 6, 8, 9 only once to form:

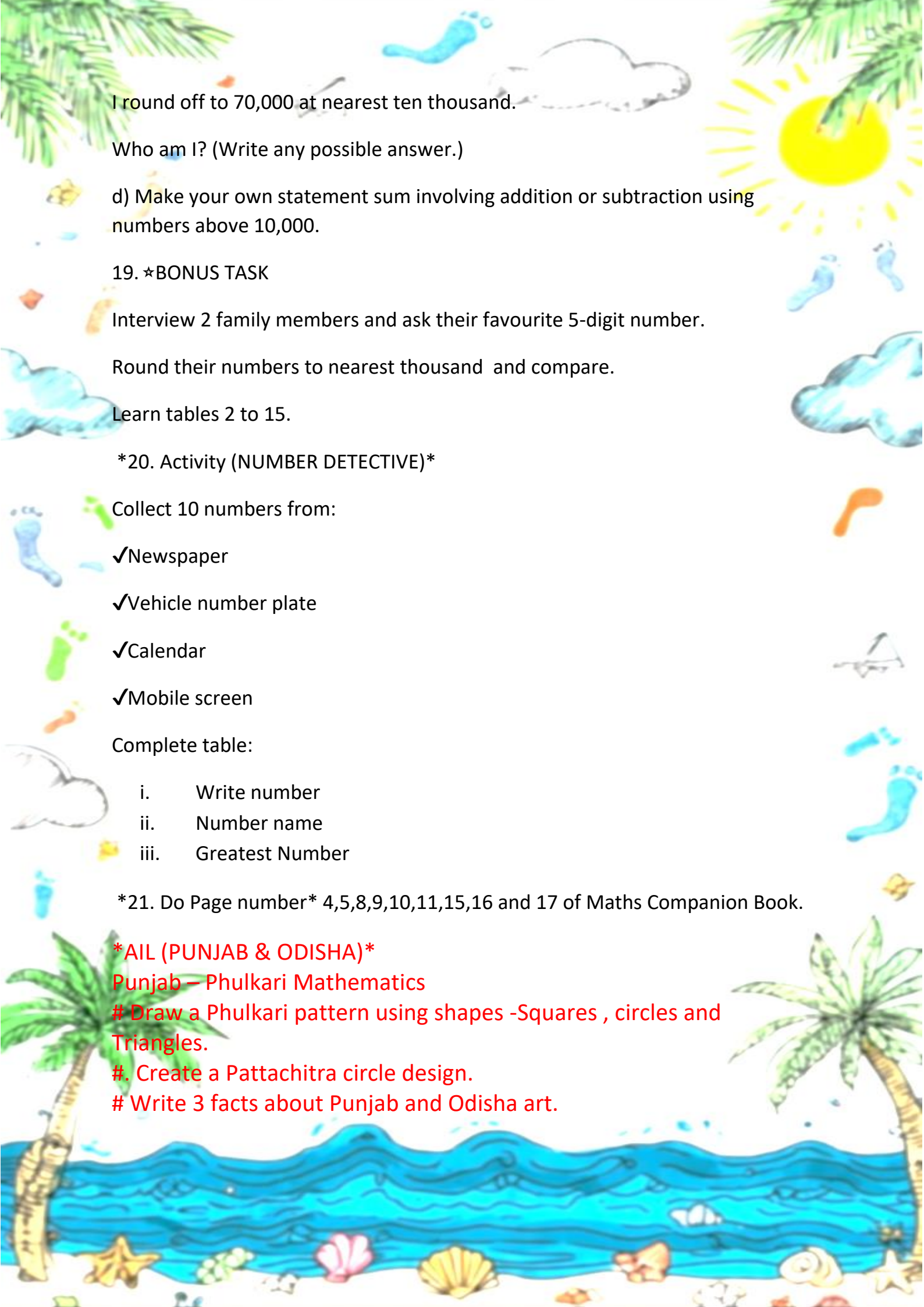
a) Greatest 5-digit number = _____

b) Smallest 5-digit number = _____

c) I am a 5-digit number.

My thousands digit is 6.

My ones digit is 4.



I round off to 70,000 at nearest ten thousand.

Who am I? (Write any possible answer.)

d) Make your own statement sum involving addition or subtraction using numbers above 10,000.

19. ★BONUS TASK

Interview 2 family members and ask their favourite 5-digit number.

Round their numbers to nearest thousand and compare.

Learn tables 2 to 15.

20. Activity (NUMBER DETECTIVE)

Collect 10 numbers from:

✓Newspaper

✓Vehicle number plate

✓Calendar

✓Mobile screen

Complete table:

- i. Write number
- ii. Number name
- iii. Greatest Number

21. Do Page number 4,5,8,9,10,11,15,16 and 17 of Maths Companion Book.

AIL (PUNJAB & ODISHA)

Punjab – Phulkari Mathematics

Draw a Phulkari pattern using shapes -Squares , circles and Triangles.

#. Create a Pattachitra circle design.

Write 3 facts about Punjab and Odisha art.

SCIENCE

HOLIDAY HOMEWORK



CASE STUDY 1: BALANCED DIET



Ria is planning to balance her food. She arranged different food items on a plate as shown below. Each section contains foods rich in specific nutrients that our body needs for growth, energy and good health.



NOW ANSWER THESE QUESTIONS:

- 1 Why do we need fruits and vegetables everyday?
- 2 What happens if a person eats too much junk food?
- 3 How do proteins help our body?
- 4 Why is breakfast considered important?
- 5 Which food is good for strong bones? Give reason to justify your answer.

CASE STUDY 2: STAPLE FOOD & NUTRIENTS BY COUNTRY

COUNTRY	STAPLE FOOD (Write 3 dishes)	NUTRIENTS FOUND IN THEM (e.g. carbohydrates, fats, proteins, vitamins, minerals)
JAPAN Continent: Asia	1. _____ 2. _____ 3. _____	_____ _____ _____
NORWAY Continent: Europe	1. _____ 2. _____ 3. _____	_____ _____ _____
DUBAI Continent: Asia	1. _____ 2. _____ 3. _____	_____ _____ _____

- 1 Which country among the above have more of plant based protein?
- 2 Comparing the dishes of all the countries which dish can be called as a balanced diet?
- 3 Mention the dish which has the lowest nutrition and why?

MY WEEKLY MEAL PLAN (3 MEALS A DAY)

DAY	BREAKFAST	LUNCH	DINNER	NUTRIENTS	INGREDIENTS	SIMPLE RECIPE
MONDAY						
TUESDAY						
WEDNESDAY						
THURSDAY						
FRIDAY						
SATURDAY						
SUNDAY						

NUTRIENTS



Create a comics strip describing formation of soil.



INGREDIENTS



ART ACTIVITY

Create a Brochure for nature lovers and photographers showing the beauty of nature and importance of conservation.

- ★ Emphasis on admiration and the valuable role play in conservation.
- ★ You may include mentioning the continent, country from where these animals begin their journey, their life span and then importance to the ecosystem.



Note:- Do Exercise 1a, 1b, 1c of companion book.



SOCIAL STUDIES

Activity-1

Companion Book Work

Complete the following pages in your Companion book neatly and carefully.

Page no.- 1,2,10,13 and 14

Activity-2

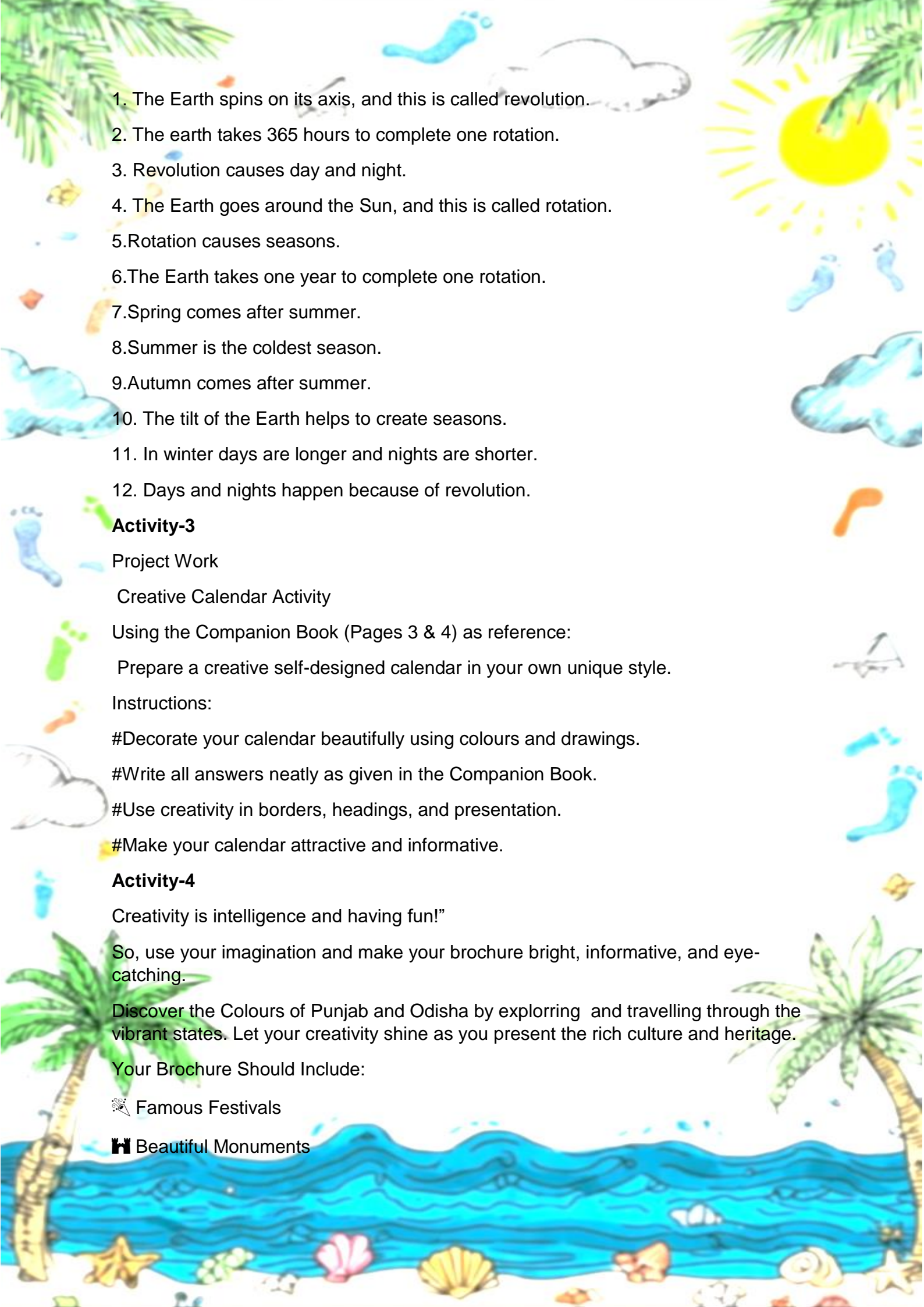
I. ANSWER THE FOLLOWING

- 1.The movement of Earth on its axis is called _____.
- 2.The imaginary line that passes through the centre of the earth is called _____
- 3.The Earth takes _____ hours to complete one rotation.
4. Revolution causes _____.
5. The movement of the earth around the Sun is called _____.
6. _____ causes day and night .
- 7.Two end points of the earth are called _____.
- 8.Earth moves around the sun on a fixed path called _____ .
- 9.The longest day of the year is _____.
- 10.The monsoon season is also called _____.
11. The shortest day of the year is _____.
12. _____ season is considered as a sign of new beginning.
- 13.Trees shed their leaves in _____ season.
14. Heavy rain can cause _____.
15. Rivers and Ponds dry up in _____ season.

II Define terms

- 1.Flood
- 2.Monsoon
- 3.Season
- 4.Revolution of Earth
- 5.Rotation of earth

III.Rewrite the following statements

- 
1. The Earth spins on its axis, and this is called revolution.
 2. The earth takes 365 hours to complete one rotation.
 3. Revolution causes day and night.
 4. The Earth goes around the Sun, and this is called rotation.
 5. Rotation causes seasons.
 6. The Earth takes one year to complete one rotation.
 7. Spring comes after summer.
 8. Summer is the coldest season.
 9. Autumn comes after summer.
 10. The tilt of the Earth helps to create seasons.
 11. In winter days are longer and nights are shorter.
 12. Days and nights happen because of revolution.

Activity-3

Project Work

Creative Calendar Activity

Using the Companion Book (Pages 3 & 4) as reference:

Prepare a creative self-designed calendar in your own unique style.

Instructions:

#Decorate your calendar beautifully using colours and drawings.

#Write all answers neatly as given in the Companion Book.

#Use creativity in borders, headings, and presentation.

#Make your calendar attractive and informative.

Activity-4

Creativity is intelligence and having fun!"

So, use your imagination and make your brochure bright, informative, and eye-catching.

Discover the Colours of Punjab and Odisha by exploring and travelling through the vibrant states. Let your creativity shine as you present the rich culture and heritage.

Your Brochure Should Include:

 Famous Festivals

 Beautiful Monuments

🍷 Traditional Foods

🎵 Popular Music and Dance Forms

🖌️ Unique Paintings and Art Forms

Make Your Brochure Special by-

Pasting colourful and attractive pictures.

Drawing or pasting a neat map of Punjab and Odisha.

Using creative headings, borders, and decorations.

Note- Revise Chapter-1 to 3 as done in class.

HINDI

निर्देश :

१. कार्य सुंदर लेखनी में Loose Sheets पर करें ।

२. परियोजना कार्य आकर्षक एवं सुंदर होना चाहिए ।

1 नीचे लिखे गद्यांश को पढ़कर पूछे गए प्रश्नों के उत्तर दीजिए:-

हर मनुष्य के लिए ज़रूरी है कि वह समय के महत्व को समझे और समय को कभी भी बेकार न करे। कारण यह है कि गया समय कभी भी लौट कर नहीं आता। बच्चों को तो समय की पालना बचपन से ही करनी चाहिए क्योंकि जो आदतें बचपन में पड़ जाती हैं, वे ज़िंदगी भर नहीं छूटतीं। सुबह समय पर उठना, व्यायाम करना, नहाना, नाश्ता करना और स्कूल जाना जैसे काम समय पर करने से बच्चे में अच्छी आदतें बनती हैं। महात्मा गाँधी अपना हर काम समय पर किया करते थे। जीवन में सफल होने के लिए ज़रूरी है कि आप समय का सम्मान करें।

i) ऊपर दिया गया गद्यांश किस पर आधारित है ?

क) मनुष्य पर ख) आदतों पर ग) समय पर

ii) प्रत्येक मनुष्य के लिए क्या समझना जरूरी है ?

क) समय का महत्व ख) खाना-पीना ग) पढ़ना-लिखना

iii. बच्चों के लिए समय पालन क्यों जरूरी है ?

iv. महात्मा गाँधी की क्या खूबी बताई गई है?

v. जीवन में सफल होने के लिए क्या जरूरी है ?



2 .दिए गए चित्र को देखकर उसका वर्णन दस पंक्तियों में कीजिए:-





3. चित्रों की सहायता से कहानी पूरी कीजिए और उसका उपयुक्त शीर्षक लिखें:-


एक  और एक  बहुत अच्छे

मित्र थे। एक बार दोनों को बहुत तेज़ भूख लगी। उन्होंने देखा कि

एक  पर बहुत से आम लगे थे। यह देख कर वे दोनों बहुत खुश हुए। वह आम खाने ही वाले थे कि उन्हें एक 


..... की दहाड़ सुनाई दी। दोनों बुरी तरह घबरा गए। अचानक

 को अपने दोस्त  की

याद आई। वह ज़ोर-ज़ोर से उसे पुकारने लगा। वह अपने साथ 

....., , और 

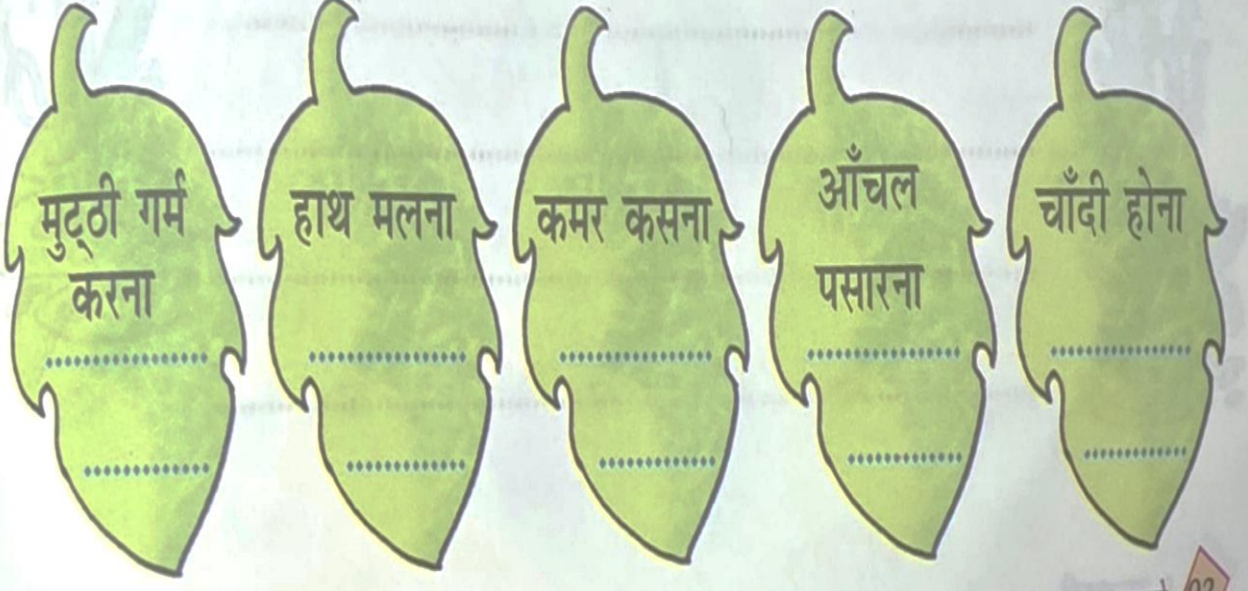
को भी ले आया। इतने जानवरों को एक साथ देखकर

 बुरी तरह डर गया और वहाँ से भाग गया।

सारे जानवरों ने मिलकर मीठे- मीठे आम खाए।

4. निर्देशानुसार करें :

1. पत्तियों में लिखे गए मुहावरों का अर्थ उनके साथ दिए रिक्त स्थानों में लिखिए-



5. मातृभाषा हिंदी से संबंधित एक आकर्षक नारा ए - 4 शीट पर लिखें।

6. 'पारिजात' पाठ्य पुस्तक में से (इकाई-2) पाठ - 2 'हीरा-मोती' कहानी पढ़ें और बताइए कि पालतू पशुओं के प्रति हमारे क्या कर्तव्य होते हैं? पाठ के आधार पर अपने शब्दों में लिखें।

7.

एक मछली के पेट में कुछ संज्ञा शब्द हैं। आप इनमें से व्यक्तिवाचक, जातिवाचक तथा भाववाचक संज्ञाएँ छाँटकर उचित मछली के चित्र में लिखिए-

रामायण, मोर,
पढ़ाई, सूरदास, कड़वाहट,
लड़ाई, हरियाली, घोड़ा, मथुरा,
मनुष्य, लोमड़ी, गंगा

व्यक्तिवाचक संज्ञा

जातिवाचक संज्ञा

भाववाचक संज्ञा

राज्य :
ओडिशा

कक्षा ४ - हिंदी - कला एकीकृत गतिविधि

राज्य :
पंजाब

निर्देश : ओडिशा और पंजाब के कोई एक राजकीय पशु या पक्षी का मुखौटा बनाकर उससे संबंधित जानकारी उत्तर पुस्तिका पर लिखें।

जानकारी

ओडिशा का राजकीय पशु

समुद्री कछुआ



जानकारी

पंजाब का राजकीय पक्षी

बाज़ (शाहीन)



जानकारी

आप क्या करेंगे?

- 1 अपना मनपसंद मुखौटा चुनें।



- 2 रंग भरें, सजाएँ और मुखौटा तैयार करें।



- 3 उत्तर पुस्तिका पर उससे संबंधित जानकारी लिखें।



कला के माध्यम से जानें, समझें और अपनी संस्कृति पर गर्व करें।

PUNJABI

" ਆਪ ਕਾਜ ਮਹਾਂ ਕਾਜ "

1 ਵਰਨਮਾਲਾ ਪੂਰੀ ਕਰੋ:-

ਲੜੀ ਨੰਬਰ	ਵਰਗ ਦਾ ਨਾਮ	ਅੱਖਰ
1	ਮੁੱਖ ਵਰਗ	
2	ਕਵਰਗ	
3	ਚਵਰਗ	
4	ਟਵਰਗ	
5	ਤਵਰਗ	
6	ਪਵਰਗ	
7	ਅੰਤਮ ਵਰਗ	
8	ਨਵੀਨ ਵਰਗ	

2. ਲਗਾਂ - ਮਾਤਰਾਵਾਂ ਦੇ ਚਿੰਨ੍ਹ ਬਣਾਉਂਦੇ ਹੋਏ, ਹੇਠਾਂ ਦਿੱਤੀ ਅਖ਼ਬਾਰ ਵਿੱਚੋਂ ਹਰ ਲਗਾਂ ਮਾਤਰਾ ਨਾਲ ਸੰਬੰਧਿਤ ਦੋ - ਦੋ ਸ਼ਬਦ ਚੁਣ ਕੇ ਲਿਖੋ।

ਜਦੋਂ 'ਲੱਖਾਂ ਸਾਲਾਂ ਤੱਕ' ਧਰਤੀ 'ਤੇ ਹੋਈ ਬਾਰਿਸ਼ !

ਅੱਜ ਜਦੋਂ ਤੋੜ੍ਹਾਂ ਬਾਰਿਸ਼ ਹੁੰਦੀ ਹੈ ਤਾਂ ਲੋਕ ਘਰਾਂ 'ਚ ਲੁਕ ਜਾਂਦੇ ਹਨ। ਕੁਝ ਘੰਟਿਆਂ ਦੀ ਬਾਰਿਸ਼ ਨਾਲ ਹੀ ਸੜਕਾਂ ਪਾਣੀ ਨਾਲ ਭਰ ਜਾਂਦੀਆਂ ਹਨ। ਪਰ ਕੀ ਤੁਸੀਂ ਜਾਣਦੇ ਹੋ ਕਿ ਸਾਡੀ ਧਰਤੀ ਦੇ ਇਤਿਹਾਸ 'ਚ ਇਕ ਅਜਿਹਾ ਸਮਾਂ ਵੀ ਸੀ, ਜਦੋਂ ਲੱਖਾਂ ਸਾਲਾਂ ਤੱਕ ਲਗਾਤਾਰ ਬਾਰਿਸ਼ ਹੁੰਦੀ ਰਹੀ ਸੀ? ਸੁਣ ਕੇ ਹੈਰਾਨੀ ਹੁੰਦੀ ਹੈ ਨਾ।

ਵਿਗਿਆਨੀਆਂ ਦਾ ਮੰਨਣਾ ਹੈ ਕਿ ਧਰਤੀ ਦੇ ਇਤਿਹਾਸ 'ਚ ਇਕ ਦੌਰ ਅਜਿਹਾ ਵੀ ਆਇਆ ਸੀ, ਜਦੋਂ ਲੱਖਾਂ ਸਾਲਾਂ ਤੱਕ ਤੋੜ੍ਹਾਂ ਅਤੇ ਲਗਾਤਾਰ ਬਾਰਿਸ਼ ਨੇ ਪੂਰੀ ਧਰਤੀ ਦਾ ਰੂਪ ਬਦਲ ਦਿੱਤਾ।

ਕਰੀਬ 23 ਕਰੋੜ ਸਾਲ ਪਹਿਲਾਂ, 'ਟ੍ਰਾਇਸਿਕ ਕਾਲ' ਦੇ ਅੰਤਿਮ ਹਿੱਸੇ 'ਚ ਇਕ ਵਿਸ਼ੇਸ਼ ਸਮਾਂ ਆਇਆ ਸੀ, ਜਿਸ ਨੂੰ ਵਿਗਿਆਨੀ 'ਕਾਰਨੀਅਨ ਪਲੂਵੀਅਲ ਐਪੀਸੋਡ' ਕਹਿੰਦੇ ਹਨ। ਇਹ ਦੌਰ ਲਗਭਗ 232 ਤੋਂ 234 ਮਿਲੀਅਨ ਸਾਲ ਪਹਿਲਾਂ ਹੋਇਆ ਸੀ।

ਉਸ ਸਮੇਂ ਧਰਤੀ ਦਾ ਮੌਸਮ ਅਚਾਨਕ ਬਹੁਤ ਬਦਲ ਗਿਆ। ਪਹਿਲਾਂ ਜਿੱਥੇ ਕਈ ਇਲਾਕੇ ਸੁੱਕੇ ਅਤੇ ਗਰਮ ਸਨ, ਉਥੇ ਹੀ ਬਾਅਦ 'ਚ ਲਗਾਤਾਰ ਅਤੇ ਭਾਰੀ ਬਾਰਿਸ਼ ਹੋਣ ਲੱਗੀ। ਇਹ ਬਾਰਿਸ਼ ਕੁਝ ਦਿਨਾਂ ਜਾਂ ਮਹੀਨਿਆਂ ਦੀ ਨਹੀਂ

ਸੀ। ਵਿਗਿਆਨੀਆਂ ਅਨੁਸਾਰ ਇਹ ਦੌਰ ਲਗਭਗ 10 ਤੋਂ 20 ਲੱਖ ਸਾਲਾਂ ਤੱਕ ਚੱਲਿਆ।

ਆਖਿਰ ਇੰਨੀ ਲੰਬੀ ਬਾਰਿਸ਼ ਕਿਉਂ ਹੋਈ? ਵਿਗਿਆਨੀਆਂ ਦਾ ਮੰਨਣਾ ਹੈ ਕਿ ਉਸ ਸਮੇਂ ਧਰਤੀ 'ਤੇ ਵਿਸ਼ਾਲ ਜਵਾਲਾਮੁਖੀ ਫਟ ਸਨ। ਇਨ੍ਹਾਂ ਜਵਾਲਾਮੁਖੀਆਂ 'ਚੋਂ ਵੱਡੀ ਮਾਤਰਾ 'ਚ ਗੈਸਾਂ ਅਤੇ ਧੂਆਂ ਵਾਤਾਵਰਣ 'ਚ ਫੈਲ ਗਿਆ। ਇਸ ਨਾਲ ਧਰਤੀ ਦਾ ਮੌਸਮ ਬਦਲਣ ਲੱਗਾ। ਅਸਮਾਨ 'ਚ ਬੱਦਲ ਵਧ ਗਏ ਅਤੇ ਲਗਾਤਾਰ ਬਾਰਿਸ਼ ਸ਼ੁਰੂ ਹੋ ਗਈ। ਹੜ੍ਹਾਂ-ਹੜ੍ਹਾਂ ਪੂਰੀ ਧਰਤੀ ਦਾ ਵਾਤਾਵਰਣ ਖੁਸ਼ਕ ਤੋਂ ਨਮ ਅਤੇ ਹੜਾ-ਭਰਾ ਬਣਨ ਲੱਗਾ।

ਕਲਪਨਾ ਕਰੋ ਉਸ ਦੁਨੀਆਂ ਦੀ। ਆਸਮਾਨ ਹਮੇਸ਼ਾ ਫਾਲੇ ਬੱਦਲਾਂ ਨਾਲ ਢਕਿਆ ਰਹਿੰਦਾ ਰੁੱਝੇਗਾ। ਬਿਜਲੀ ਚਮਕਦੀ ਹੋਵੇਗੀ, ਗਰਜਦੇ ਬੱਦਲ, ਡਰਾਉਣੀਆਂ ਆਵਾਜ਼ਾਂ ਕਰਦੇ ਹੋਣਗੇ ਅਤੇ ਹਰ ਪਾਸੇ ਪਾਣੀ ਹੀ ਪਾਣੀ ਦਿਖਾਈ ਦਿੰਦਾ ਹੋਵੇਗਾ। ਨਦੀਆਂ ਉਫਾਨ 'ਤੇ ਰਹਿੰਦੀਆਂ ਹੋਣਗੀਆਂ ਅਤੇ ਨਵੇਂ ਜੰਗਲ ਉਗਣ ਲੱਗੇ ਹੋਣਗੇ।

ਉਸ ਸਮੇਂ ਧਰਤੀ 'ਤੇ ਅੱਜ ਵਰਗੇ ਜਾਨਵਰ ਨਹੀਂ ਸਨ। ਪਰ ਸਮੁੰਦਰਾਂ ਅਤੇ ਜ਼ਮੀਨ 'ਤੇ ਕਈ ਅਜੀਬ ਜੀਵ ਰਹਿੰਦੇ ਸਨ। ਕੁਝ ਵੱਡੇ ਗੀਰਣ ਵਾਲੇ ਜੀਵ ਸਮੁੰਦਰਾਂ 'ਚ ਤੈਰਦੇ ਸਨ, ਜਦੋਂ ਕਿ

ਲੜੀ ਨੰਬਰ	ਲਗਾਂ ਦੇ ਨਾਮ	ਚਿੰਨ੍ਹ	ਸ਼ਬਦ
1	ਮੁਕਤਾ		
2	ਕੰਨਾ		
3	ਸਿਹਾਰੀ		
4	ਬਿਹਾਰੀ		
5	ਔਕੜ		
6	ਦੁਲੈਂਕੜ		
7	ਹੋੜਾ		
8	ਕਨੌੜਾ		
9	ਲਾ		
10	ਦੁਲਾਵਾਂ		

3. ਵਰਕਸ਼ੀਟ:(ਰੁੱਤਾਂ ਦੀ ਰਾਣੀ: ਬਸੰਤ ਰੁੱਤ, ਬੋਲੀ ਜਾਂ ਭਾਸ਼ਾ)

(i) ਸ਼ਬਦ ਅਰਥ:-

(ੳ) ਢੁੱਕਵੀਂ (ਅ) ਚੁਗਿਰਦਾ

(ii) ਵਾਕ ਬਣਾਓ:- ਮੌਸਮ

(iii) ਖਾਲੀ ਥਾਵਾਂ ਭਰੋ:-

(ੳ) ਪੰਜਾਬੀ ਭਾਸ਼ਾ ਦੀ ਲਿਪੀ_____ ਹੈ।

(ਅ) ਮਨ ਦੇ ਭਾਵਾਂ ਜਾਂ ਵਿਚਾਰਾਂ ਨੂੰ ਲਿਖ ਕੇ ਪ੍ਰਗਟ ਕਰਨ ਦੇ ਸਾਧਨ ਨੂੰ_____ ਆਖਦੇ ਹਨ।

(ੲ) ਬਸੰਤ ਰੁੱਤ ਵਿੱਚ_____ ਦਾ ਤਿਉਹਾਰ ਮਨਾਇਆ ਜਾਂਦਾ ਹੈ।

(ਸ) ਬਸੰਤ ਰੁੱਤ ਆਉਣ ਨਾਲ ਮਨੁੱਖ ਹੀ ਨਹੀਂ ਸਗੋਂ ਸਾਰੇ_____ ਵੀ ਇਸ ਮੌਸਮ ਦਾ ਖੁਬ ਅਨੰਦ ਮਾਣਦੇ ਹਨ।

(iv) ਹੇਠਾਂ ਲਿਖੇ ਪ੍ਰਸ਼ਨਾਂ ਦੇ ਉੱਤਰ ਲਿਖੋ:-

(ੳ) ਬੋਲੀ ਕਿਸ ਨੂੰ ਆਖਦੇ ਹਨ ?

(ਅ) ਪੰਜਾਬੀਆਂ ਦੀ ਮਾਂ-ਬੋਲੀ ਕਿਹੜੀ ਹੈ ?

(ੲ) ਸਰਦਾਰ ਭਗਤ ਸਿੰਘ ਕਿਹੜਾ ਗੀਤ ਅਕਸਰ ਗਾਇਆ ਕਰਦੇ ਸਨ?

(ਸ) ਬਸੰਤ-ਪੰਚਮੀ ਵਾਲੇ ਦਿਨ ਕਿਸ ਦੀ ਸ਼ਹੀਦੀ ਹੋਈ ਸੀ ?

(ਹ) ਆਈ ਬਸੰਤ ਪਾਲਾ ਉਡੰਤਾ ਤੋਂ ਕੀ ਭਾਵ ਹੈ ?

4. 'ਮੇਰਾ ਪਰਿਵਾਰ' ਵਿਸ਼ੇ ਉੱਤੇ ਸੁਹਣੀ ਲਿਖਾਈ ਨਾਲ ਦਸ ਸਤਰਾਂ ਵਿੱਚ ਲੇਖ ਲਿਖੋ ਅਤੇ ਆਪਣੇ ਸੁਹਣੇ ਪਰਿਵਾਰ ਦੀ ਤਸਵੀਰ ਵੀ ਚਿੱਪਕਾਓ।

5. ਆਪਣੇ ਸਕੂਲ ਦੇ ਪ੍ਰਿੰਸੀਪਲ ਸਾਹਿਬਾਨ ਜੀ ਨੂੰ ਪੀਣ ਦੇ ਪਾਣੀ ਦਾ ਉੱਚਿਤ ਪ੍ਰਬੰਧ ਕਰਵਾਉਣ ਸੰਬੰਧੀ ਬਿਨੈ-ਪੱਤਰ ਲਿਖੋ।

6. (i) ਤੁਹਾਡੀ ਪਾਠ-ਪੁਸਤਕ ਵਿੱਚ ਸੜਕ ਸੁਰੱਖਿਆ ਨਾਲ ਸੰਬੰਧਿਤ ਕਿਹੜਾ ਪਾਠ ਹੈ? ਉਸਦਾ ਨਾਮ ਲਿਖਦੇ ਹੋਏ ਚੌਂਕ ਵਿੱਚ ਲੱਗੀਆਂ ਬੱਤੀਆਂ ਦਾ ਚਿੱਤਰ ਬਣਾ ਕੇ ਉਸ ਵਿੱਚ ਰੰਗ ਭਰੋ ਅਤੇ ਉਹਨਾਂ ਬਾਰੇ ਸੰਖੇਪ ਜਾਣਕਾਰੀ ਦਿਓ।

(ii) ਕਸਰਤ ਕਰਨ ਦੇ ਕੀ-ਕੀ ਲਾਭ ਹਨ? ਕੋਈ ਦਸ ਲਾਭ ਲਿਖੋ ਅਤੇ ਪੇਪਰ ਪੜ੍ਹਨ ਪ੍ਰਤੀਯੋਗਤਾ (ਇੱਕ-ਦੋ ਮਿੰਟ) ਲਈ ਤਿਆਰ ਕਰੋ।

7. ਪੰਜਾਬ ਅਤੇ ਉੜੀਸਾ (AII)

(i) ਹੇਠਾਂ ਦਿੱਤੇ ਚਿੱਤਰ ਨੂੰ ਦੇਖ ਕੇ ਆਪਣੇ ਵਿਚਾਰ ਲਿਖੋ। (6-8 ਸਤਰਾਂ):-



ਜਾਂ

(ii) ਘਰ ਵਿੱਚ ਪਈਆਂ ਹੋਈਆਂ ਪੁਰਾਣੀਆਂ ਚੀਜ਼ਾਂ ਦੀ ਵਰਤੋਂ ਕਰਦੇ ਹੋਏ ਇੱਕ ਸਜਾਵਟੀ ਤੋਹਫ਼ਾ ਬਣਾਓ।

8. ਵਿਆਕਰਨ ਦੀ ਪੁਸਤਕ ਸੰਬੰਧੀ ਲੇਖ (ਗਾਂ, ਮੇਰ, ਮੇਰਾ ਸਕੂਲ) ਪੜ੍ਹੋ ਅਤੇ ਕਹਾਣੀਆਂ (ਲਾਲਚੀ ਕੁੱਤਾ, ਸ਼ੇਰ ਅਤੇ ਚੂਹੀ) ਯਾਦ ਕਰੋ।

9. ਜਮਾਤ ਵਿੱਚ ਕੀਤੇ ਗਏ ਕੰਮ ਦੀ ਦੁਹਰਾਈ ਕਰੋ।

ਨੋਟ:-ਸਾਰਾ ਕੰਮ ਸਕਰੈਪ ਕਾਪੀ ਉੱਤੇ ਕਰੋ।

COMPUTER



MS OFFICE TOOLS and TYPE OF SOFTWARES TO START WITH HOLIDAY ASSIGNMENTS



I. "Put on your thinking cap and solve these real-life computer situations with smart answers!"

1. Riya wants to type her English homework neatly on the computer instead of writing it in a notebook.

Question: Which software should she use?

Ans. _____

2. The principal wants to show slides with pictures and animations during the morning assembly.

Question: Which MS Office tool should be used?

Ans. _____

3. Smayra wants to prepare a timetable in rows and columns.

Question: Which MS Office tool is most suitable?

Ans. _____

II. Select the correct option:

1. Which software controls hardware like keyboard and mouse?

a) Application Software b) Microsoft Excel
c) System Software

2. Which MS Office tool is used for sending and receiving emails?

a) Microsoft Excel b) Paint
c) Microsoft Outlook

3. Priya adds a chapter name at the top of every page of her assignment.

Which option is best for this?

a) Footer
b) Word Count
c) Header

4. Rohan wants to add the page number at the bottom of every page in his project. Which feature should he use?

- a) Header
- b) Word Count
- c) Footer

5. Ishaan typed a paragraph and checked that it has 120 words. Which tool gave him this information?

- a) Header
- b) Word Count
- c) Title Bar

III. Write whether the given statements are True or False.

1. A computer can work properly even without System Software.

2. MS Office tools are examples of Application Software.

3. Save and Undo buttons are commonly found on the Quick Access Toolbar. _____

4. Microsoft Excel is the best software for creating animated slideshows.

5. Ribbon is the name of the typing area in MS Word.

IV. Riya wants to type and print her homework using Microsoft Word.

Arrange these steps in the correct order:

- Print the document
- Type the homework
- Open MS Word
- Save the file

V. Picture Detective Time! 

1. Circle the odd one out.



a.

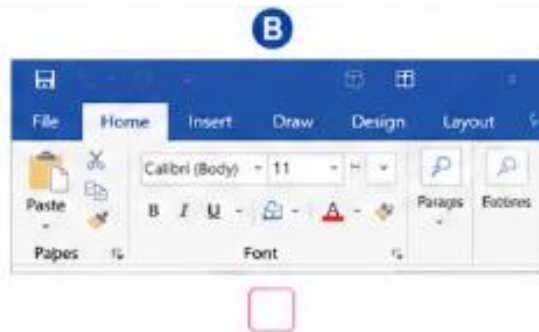


c.

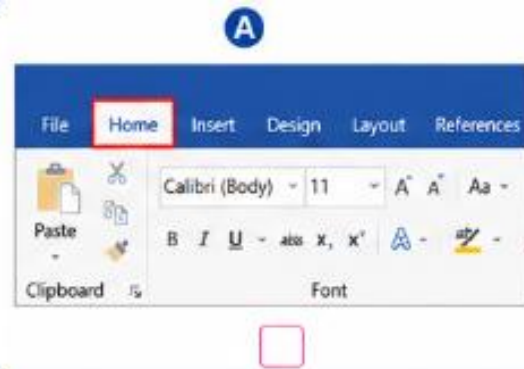


b.

2. Select the picture where the Ribbon is visible.



3. Tick the picture where Home Tab is active.



VI. AI around Indian states.

1. An AI robot is learning about famous festivals of India.

It matches Lohri with one state and Rath Yatra with another state.

Name the states.

Lohri

Rath Yatra

2. An AI food app shows:

Makki di Roti, Sarson da Saag

Pakhala Bhata, seafood dishes



Identify the states.

VII. During your vacations, you may have seen or used smart gadgets like a mobile phone, smart TV, robot vacuum cleaner, smartwatch, Alexa, Google Assistant, smart camera, or any other AI device. These gadgets use Artificial Intelligence (AI) to help people in different ways.

Create a neat and colorful document in MS Word on the topic "[A Smart AI Gadget from My Vacation](#)"


Your document should include:

- Name of the AI gadget
- Where you saw or used it
- How it helps people
- Smart features of the gadget
- Why you liked it

 Instructions:

- Type at least 8–10 lines.
- Add a suitable picture of the gadget.
- Use a proper heading and good formatting.
- Save the file with your Name and Class.

Take the printout of the document for submission.



GENERAL KNOWLEDGE

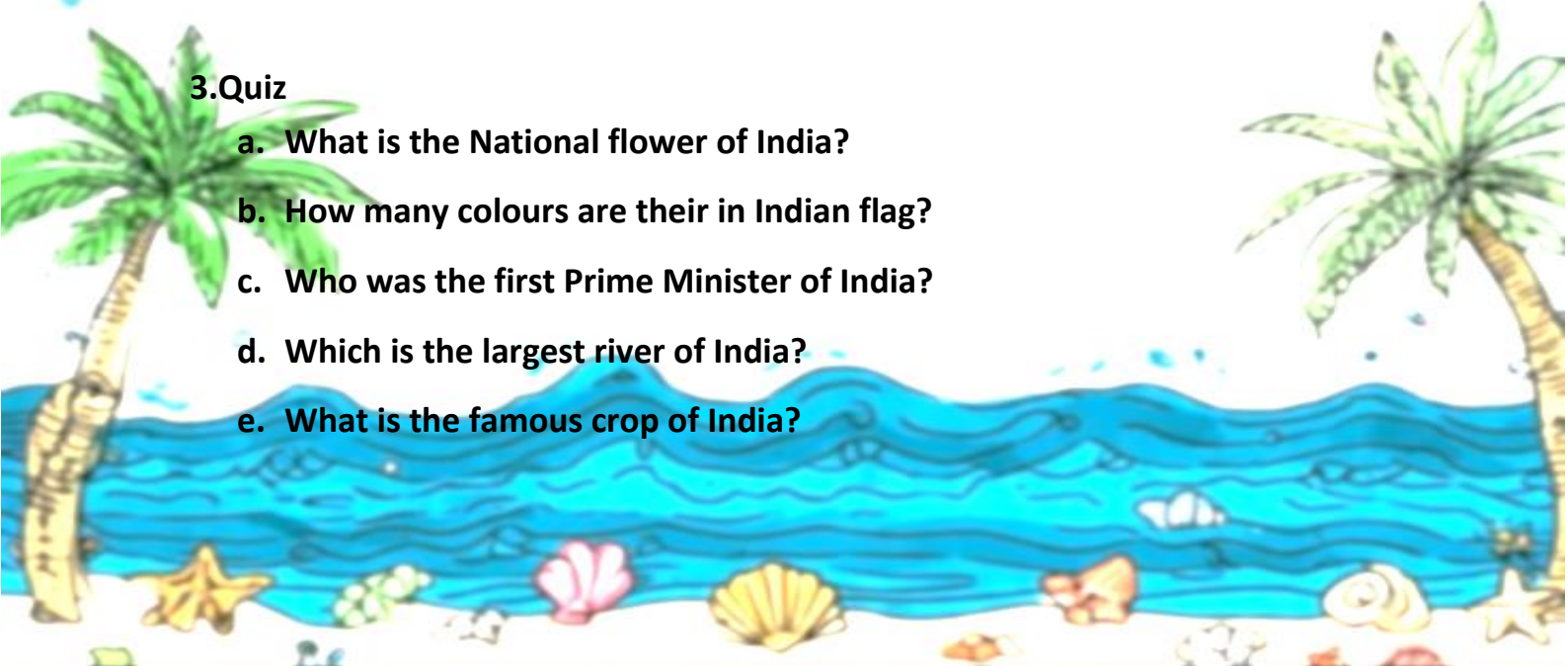
1. Answer the following questions

1. Who is the the Chief Minister of Punjab?
2. Who treats our teeth problem?
3. Kathak is the dance form of which country ?
4. Who invented Computer ?
5. Who invented band aid?

2. Match the following

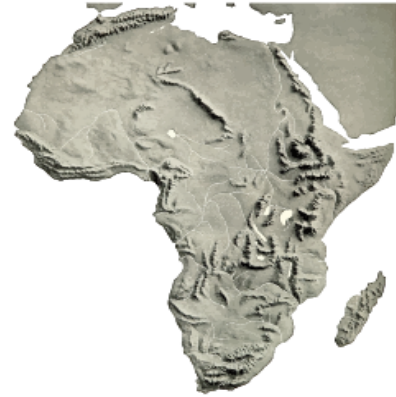

- | | |
|--------------|-----------------|
| a. Japan | Sambha |
| b. Brazil. | Kabuki |
| c. Cuba | Salsa |
| d. Computer | Charles Babbage |
| e. Band aid. | Earle Dickson |

3. Quiz

- a. What is the National flower of India?
 - b. How many colours are their in Indian flag?
 - c. Who was the first Prime Minister of India?
 - d. Which is the largest river of India?
 - e. What is the famous crop of India?
- 

Name: _____ Date: _____

Geography Puzzle



Across

6. It is popularly known as Golden Temple

7. Known as palace of the winds

9. Jail in Andaman & Nicobar Islands known as kala pani

10. Built by great ruler Ashoka

Down

1. a museum in kolkata dedicated to queen victoria

2. A temple in delhi entirely constructed from Rajasthan pink sandstone and Italian Carrara marble.

3. a temple in madurai built in dravidian architecture

4. Also known as All India War memorial

5. Built by Shah Jahan for her wife, Nur Jahan

8. On Independence day Prime Minister hoists National flag here

General Knowledge Quiz Link : <https://go.screenpal.com/watch/cOhYeKntgUy>

Write down the 15 current affairs (National and international) of June month in your notebook of Gk.

ARTS & CRAFT

Topic: Creative Mandala Art Using Pista Shells

Kindly refer to the picture and prepare a beautiful painting accordingly.



<https://youtu.be/pa8P4OW6EzY?si=ozV1yEwgUOWqTBsf>

🌿 Eco Club Summer Green Mission 🌿

Theme for the Session

“Small Green Steps, Big Future Changes”

Eco Club Slogan

“Save Nature Today, Secure Tomorrow.”

Event Name

🌱 **“Plant for Papa” – A Green Tribute Drive** 🌱

Activity Details

Students will plant any one of the following:

- A tree
- Flowering plant
- Medicinal plant
- Fruit plant

The plant may be planted:

- Near home
- In a park
- Society area
- Garden
- Village/community space

Students Will Submit on an A4 Sheet:

📷 Paste 1–2 photographs while planting.

✍️ Write the following details:

- Plant Name
- Place of Plantation
- Why you chose the plant

📝 Mention the line:

“This plant is dedicated to my father/family.”

Suggested Plants

Neem, Tulsi, Aloe Vera, Hibiscus, Mango, Guava, Lemon, Marigold, etc.